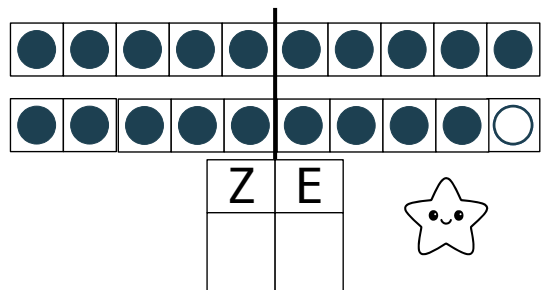
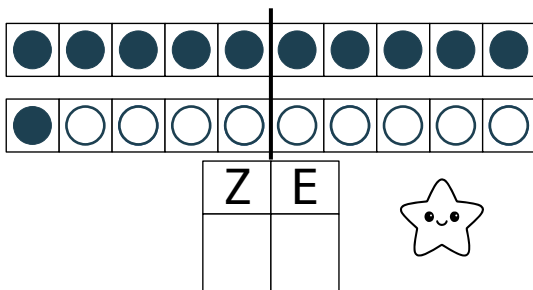
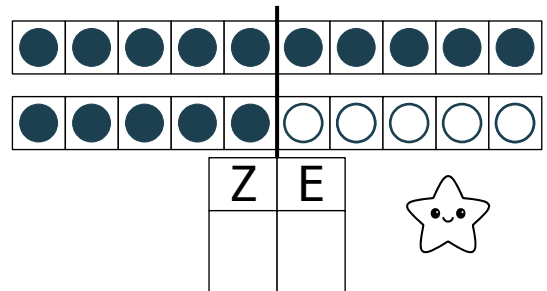
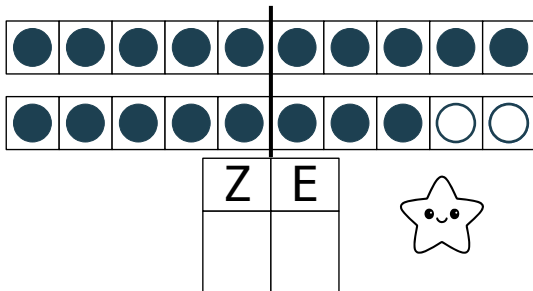
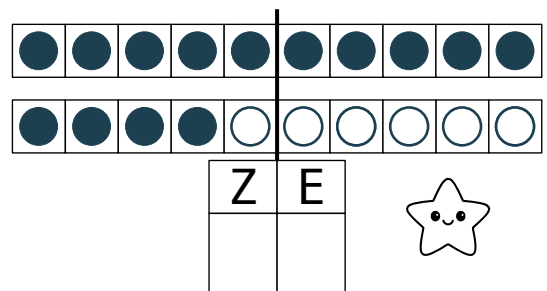
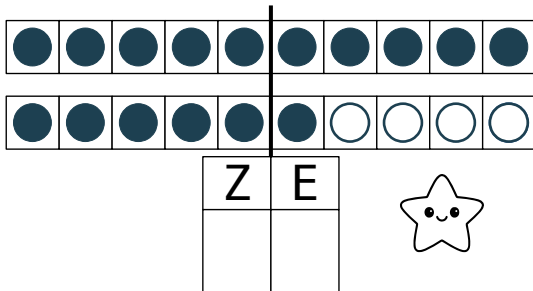
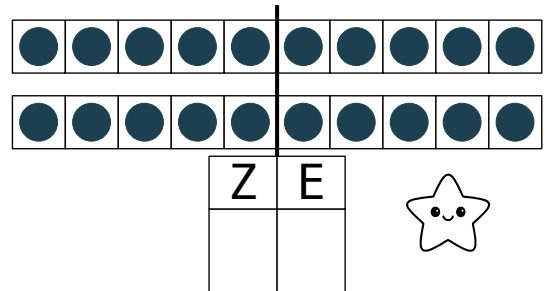
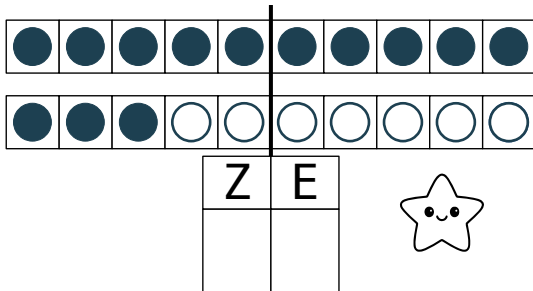




Zahlen bis 20

Jetzt versuchen wir Zahlen aus Zehnern und Einern zu erkennen. Schau dir die Punkte an und entscheide wie viele Zehner und Einer zu siehst.







Zahlen bis 20

Jetzt versuchen wir Zahlen aus Zehnern und Einern zu erkennen. Schau dir die Punkte an und entscheide wie viele Zehner und Einer zu siehst.


○	○	○	○	○	○	○	○	○	○
○	○	○	○	○	○	○	○	○	○
Z					E				
1					3				




○	○	○	○	○	○	○	○	○	○
○	○	○	○	○	○	○	○	○	○
Z					E				
1					8				




○	○	○	○	○	○	○	○	○	○
○	○	○	○	○	○	○	○	○	○
Z					E				
1					6				




○	○	○	○	○	○	○	○	○	○
○	○	○	○	○	○	○	○	○	○
Z					E				
1					5				




○	○	○	○	○	○	○	○	○	○
○	○	○	○	○	○	○	○	○	○
Z					E				



○	○	○	○	○	○	○	○	○	○
○	○	○	○	○	○	○	○	○	○
Z					E				



○	○	○	○	○	○	○	○	○	○
○	○	○	○	○	○	○	○	○	○
Z					E				



○	○	○	○	○	○	○	○	○	○
○	○	○	○	○	○	○	○	○	○
Z					E				

