







Rechnen mit Zehnerzahlen


Hallo du Mathe-Abenteurer, heute hüpfen wir in Zehnerschritten durch die Zahlen. Rechne jede Aufgabe in Ruhe – für jede richtige Lösung bekommst du einen oder sogar mehrere BooStars. Das wird bootastisch!


$10 + 20 =$ 


$20 + 40 =$ 


$20 + 70 =$ 


$50 + 30 =$ 


$30 + 30 =$ 


$40 + 50 =$ 


$20 + 60 =$ 


$40 + 40 =$ 


$50 + 10 =$ 


$70 + 20 =$ 


$40 + 30 =$ 

$50 + 20 =$ 

$60 + 20 =$ 

$30 + 10 =$ 


$20 + 50 =$ 


$10 + 50 =$ 





Mach dir die Zehner als Sprünge auf einer Zahlengerade klar – 10 mehr ist ein Sprung nach rechts, 10 weniger ein Sprung nach links.


70

$50 +$ 


$30 +$ 


$40 +$ 


$10 +$ 


$60 +$ 

50

$30 +$ 

$10 +$ 

$20 +$ 

$50 +$ 





Rechnen mit Zehnerzahlen

Hallo du Mathe-Abenteurer, heute hüpfen wir in Zehnerschritten durch die Zahlen. Rechne jede Aufgabe in Ruhe – für jede richtige Lösung bekommst du einen oder sogar mehrere BooStars. Das wird bootastisch!

60

$30 + \square \square \star$

$50 + \square \square \star$

$10 + \square \square \star$

$0 + \square \square \star$

$40 + \square \square \star$

70

$50 + \square \square \star$

$30 + \square \square \star$

$40 + \square \square \star$

$10 + \square \square \star$

$60 + \square \square \star$

$0 + \square \square \star$

$20 + \square \square \star$

90

$30 + \square \square \star$

$20 + \square \square \star$

$50 + \square \square \star$

$70 + \square \square \star$

$80 + \square \square \star$

$10 + \square \square \star$

$0 + \square \square \star$

$60 + \square \square \star$

50

$30 + \square \square \star$

$10 + \square \square \star$

$20 + \square \square \star$

$0 + \square \square \star$

$50 + \square \square \star$

Übungsblatt

M201-2

















Rechnen mit Zehnerzahlen

Hallo du Mathe-Abenteurer, heute hüpfen wir in Zehnerschritten durch die Zahlen. Rechne jede Aufgabe in Ruhe – für jede richtige Lösung bekommst du einen oder sogar mehrere BooStars. Das wird bootastisch!









50

80	-	<input type="text"/>	<input type="text"/>	<input type="text"/>	
50	-	<input type="text"/>	<input type="text"/>	<input type="text"/>	
60	-	<input type="text"/>	<input type="text"/>	<input type="text"/>	
70	-	<input type="text"/>	<input type="text"/>	<input type="text"/>	
90	-	<input type="text"/>	<input type="text"/>	<input type="text"/>	






40

50	-	<input type="text"/>	<input type="text"/>	<input type="text"/>	
70	-	<input type="text"/>	<input type="text"/>	<input type="text"/>	
60	-	<input type="text"/>	<input type="text"/>	<input type="text"/>	
90	-	<input type="text"/>	<input type="text"/>	<input type="text"/>	
40	-	<input type="text"/>	<input type="text"/>	<input type="text"/>	
80	-	<input type="text"/>	<input type="text"/>	<input type="text"/>	
100	-	<input type="text"/>	<input type="text"/>	<input type="text"/>	

20

60	-	<input type="text"/>	<input type="text"/>	<input type="text"/>	
80	-	<input type="text"/>	<input type="text"/>	<input type="text"/>	
50	-	<input type="text"/>	<input type="text"/>	<input type="text"/>	
90	-	<input type="text"/>	<input type="text"/>	<input type="text"/>	
70	-	<input type="text"/>	<input type="text"/>	<input type="text"/>	
40	-	<input type="text"/>	<input type="text"/>	<input type="text"/>	
30	-	<input type="text"/>	<input type="text"/>	<input type="text"/>	
20	-	<input type="text"/>	<input type="text"/>	<input type="text"/>	

60

90	-	<input type="text"/>	<input type="text"/>	<input type="text"/>	
100	-	<input type="text"/>	<input type="text"/>	<input type="text"/>	
70	-	<input type="text"/>	<input type="text"/>	<input type="text"/>	
80	-	<input type="text"/>	<input type="text"/>	<input type="text"/>	
60	-	<input type="text"/>	<input type="text"/>	<input type="text"/>	

Übungsblatt
M201-4

